

ВСЕРОССИЙСКАЯ ОЛИМПИАДА ШКОЛЬНИКОВ ПО ОБЩЕСТВОЗНАНИЮ  
МУНИЦИПАЛЬНЫЙ ЭТАП. 8 класс.2019-2020 гг.

**Максимальный балл за работу – 100**

1. Задания для выбора ответа («да» — если высказывание верно, «нет» - если высказывание неверно). Внесите свои ответы в таблицу.

По 2 балла за каждую верную позицию, всего – 12 баллов.

1.1. Все мировые религии возникли в Древнем мире.

1.2. Роль государства в экономических процессах является предметом изучения макроэкономики.

1.3. Большинство государств мира являются унитарными.

1.4. «19 декабря 2016 г. коллегии выборщиков в 50 штатах США и округе Колумбия большинством голосов официально избрали Дональда Трампа президентом США». Данное сообщение отражает ступенчатый характер выборов на пост Президента США.

1.5. Фамилия ребенка в возрасте от 10 до 14 лет может быть изменена без его согласия, при условии, что это желание обоих родителей.

1.6. Для натурального хозяйства характерна высокая производительность труда

1.1	1.2	1.3	1.4	1.5	1.6

**По 2 балла за каждую верную позицию.**

**Максимальный балл - 12.**

2. Выберите несколько верных ответов в каждом задании и занесите свой ответ в таблицу:

2.1. Выберите из приведённого списка примеры восходящей вертикальной социальной мобильности.

1. Депутат Государственной Думы шестого созыва М. был переизбран в Государственную Думу седьмого созыва.

2. Бухгалтер В. ушёл на пенсию.

3. Майору присвоено звание подполковника.

4. Продавец назначена директором магазина.

5. Студент Томского университета К. перевёлся с исторического факультета на филологический.

6. Помощник машиниста В. сдал квалификационный экзамен и стал машинистом.

2.2. Что из перечисленного относится к средствам производства?

1. Автомобиль

2. Станки

3. Научные достижения

4. Здание фабрики

5. Интеллектуальные способности

6. Инновационное оборудование

- 2.3. Брак расторгается в судебном порядке в случае
- 1.возражений одного из супругов против расторжения брака
  - 2.наличия у супругов общих несовершеннолетних детей
  - 3.признания одного из супругов недееспособным
  - 4.несовершеннолетия одного из супругов
  - 5.осуждения одного из супругов к лишению свободы на срок более 3 лет

2.1	2.2	2.3

**По 1 баллу за каждую верную позицию, всего – 8 баллов.**

**Максимальный балл – 8 баллов.**

3. Установите соответствие между отличительными чертами социальных групп и видами социальных групп, к которым они относятся: к каждой позиции, данной в первом столбце, подберите соответствующую позицию из второго столбца.

Ответы внесите в таблицу.

Отличительные черты	Виды социальных групп
А) неустойчивый состав группы	1. малая группа
Б) наличие эмоциональных отношений между членами группы	2. большая группа
В) оказывают непосредственное воздействие на формирование и развитие личности	
Г) распределение функций и социальных ролей среди членов группы	
Д) общие интересы членов группы имеют эпизодический характер	

А	Б	В	Г	Д

**По 2 балла за каждую верную позицию, всего – 10 баллов.**

**Максимальный балл – 10 баллов.**

4. Используя ВСЕ приведенные слова и словосочетания, составьте определения двух обществоведческих понятий. Запишите в таблицу термины и рядом запишите составленные вами определения

4.1. принятая, единое, целое, определённых ,поведения, система, составляющих, социальных, правил, кругах,

Понятие: \_\_\_\_\_.





4.2. при, сумма, или, уплачивается, покупке, которая, товаров, денег, услуг

Понятие: \_\_\_\_\_.

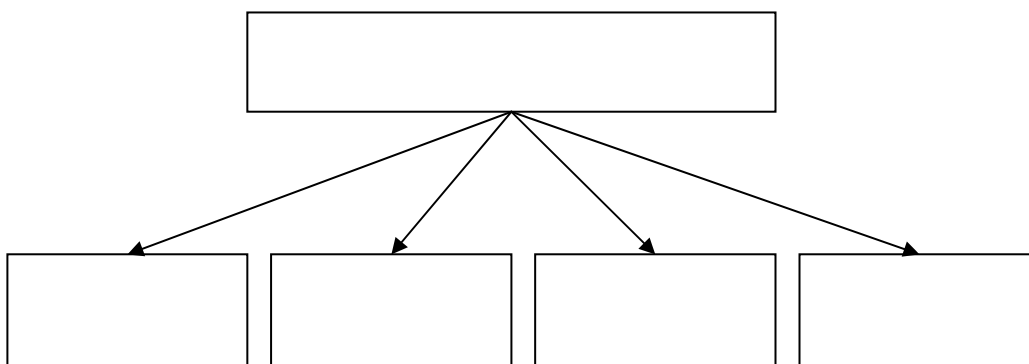
**По 5 балла за каждую верную позицию**

**Максимальный балл - 10 баллов.**

5. Заполните схему, указав общую для всех изображений категорию (обобщающее понятие), а также ее элементы, соответствующие изображениям. Впишите также в соответствующие ячейки буквенные обозначения иллюстраций, которые относятся к указанным вами элементам.

<p style="text-align: center;"><b>А</b></p> 	<p style="text-align: center;"><b>Б</b></p> 
<p style="text-align: center;"><b>В</b></p> 	<p style="text-align: center;"><b>Г</b></p> 

Ответ:



**По 2 балла за каждую верную позицию**

**Максимальный балл-12**

**6. Решите политологическую задачу**

Найдите ошибки в таблице. Укажите верную форму государственного устройства

Государство	Форма государственного устройства
РФ современного периода	Унитарное государство
Польша современного периода	Федерация
США современного периода	Федерация

*При оценивании учитываются указанные ошибки, а также указание верной формы государственного устройства. Максимальный балл -12.*

**3 балла – за каждую найденную ошибку(6 баллов), по 3 балла за указание правильной формы**

**Максимальный балл - 12.**

**7.Решите экономическую задачу.**

Летом Коля подрабатывал на стройке и скопил некоторую сумму денег. Его старшая сестра Марина поступила на первый курс университета, и Коля решил сделать ей полезный подарок – купить планшет для учёбы. Поскольку Коля хочет сэкономить, он, определившись с моделью планшета, решил совершить наиболее выгодную покупку и посмотрел цены на выбранный товар в нескольких магазинах. В *интернет-магазине А* понравившийся Коле планшет стоит 2 999 р. В известной розничной сети по продаже бытовой техники и электроники, *магазине Б*, такая же модель стоит 3 899 р. В небольшом *магазине В*, специализирующемся на планшетах и смартфонах и находящемся не далеко от Колиного дома, этот планшет стоит 3 599 р. При этом на покупки в *интернет-магазине А* у Коли есть скидка 3%, в сети *магазинов Б* объявлена распродажа всех планшетов со скидкой 15%, а от *магазина В* у Коли имеется дисконтная карта на 7%. Кроме того, в *интернет-магазине А* при заказе на сумму менее 3 000 р. придётся доплатить за доставку 500 р., а ближайший *магазин сети Б* находится очень далеко, поэтому туда нужно будет ехать на общественном транспорте (стоимость 1 проезда в городе 28 р.). Сопоставив итоговые суммы, которые Коля может потратить на планшет в каждом из трёх магазинов, запишите в ответ, в каком магазине, за сколько он купит планшет и почему его выбор будет именно таким.

**Максимальный балл-14.**

**8.Решите логическую задачу.**

Егор, Иван и Сергей – друзья. У них разные увлечения: один пишет стихи, второй играет в футбол, а третий - шахматист. Как-то один из них сообщил другому: «Иван, мы обыграли соперника со счетом 2:1. Я смог отразить все пенальти!». Иван тут же отправил их товарищу sms такого содержания: «Сергей, срочно придумай стишок о победе наших футболистов». Напишите, как зовут футболиста.

#### **Максимальный балл - 4.**

9. Прочитайте фрагмент работы Джона Локка «Два трактата о правлении».

Но хотя люди, когда они вступают в государство, отказываются от равенства, свободы и исполнительной власти, которыми они обладали в естественном состоянии, и передают их в руки государства, с тем чтобы в дальнейшем этим располагала законодательная власть в той мере, в какой этого будет требовать благо общества, всё же это делается каждым лишь с намерением как можно лучше сохранить себя, свою свободу и собственность. Власть общества или созданного людьми законодательного органа никогда не может простирается далее, нежели это необходимо для общего блага; эта власть обязана охранять собственность каждого... И кто бы ни обладал законодательной или верховной властью в любом государстве, он обязан править согласно установленным постоянным законам, провозглашённым народом и известным народу, а не путем импровизированных указов; править с помощью беспристрастных и справедливых судей, которые должны разрешать споры посредством этих законов и применять силу государства в стране только при выполнении таких законов, а за рубежом – для предотвращения вреда или для получения возмещения за него и для охраны государства от вторжений и захватов. А всё это должно осуществляться ни для какой иной цели, но только в интересах мира, безопасности и общественного блага народа

**9.1.** Для защиты каких своих естественных прав люди, по мнению автора, учреждают государственную власть? Укажите три права.

**9.2.** Какая теория происхождения государства находит отражение в этом тексте? Обоснуйте свой ответ цитатой из текста.

**9.3.** Автор говорит о том, что правитель должен «править согласно установленным постоянным законам, а не путём импровизированных указов». Какие последствия могут быть, если это правило не соблюдается? Приведите три возможных последствия.

#### **Максимальный балл- 18 .**